



النموذج التدريبي لمادة العلوم الفصل الدراسي الأول الصف الأول



تهيئة الطلاب لتطبيق الامتحانات

الهدف



2/2701

1. الاطلاع على النماذج التدريبية مسبقاً .
2. إمكانية توليد نماذج تدريبية على نمط النماذج المرفقة .
3. توظيف جهاز العرض في التدريب .
4. تنفيذ المفردات التدريبية ^{سواء} فردية أو جماعية .
5. إنجاز التدريب ضمن الوقت المخصص قبل بداية الامتحان .



المفردات التدريبية:

ظلل دائرة الإجابة الصحيحة فيما يأتي:

(1) كائن غير حي:



(2) لا تحتاجه الكائنات الحية كي تعيش وتكبر



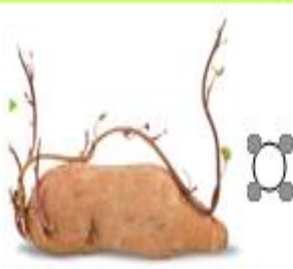
(3) جذر النبات الذي نأكله:



(4) جزء من النبات يتحول الى نبات جديد:



(5) نبات يمكن أن ينمو عن طريق البراعم:





المفردات التدريبية:

(6) نبات ينمو في الصحراء:



(7) حيوان من الثدييات:



(8) حيوان من الطيور:



(9) حيوان من الزواحف:



(10) حيوان يساعده مخالبه الحادة على التقاط غذائه:





المفردات التدريبيه:

11- صل بخط مستقيم بين كل جزء من أجزاء النبات وصورته:




= الأوراق

= الجذور

= الساق

= الزهرة

12- 1- نَوِّن الثدييات 2- حَوِّط الزواحف 3- ضغ خطأ تحت الطيور



13- صل بخط مستقيم بين الحيوان ونوعه في الجدول التالي:



طيور	حشرات	أسماك	زواحف	ثدييات	برمائيات
------	-------	-------	-------	--------	----------



المفردات التدريبية:

14- رتب مراحل نمو النبات بكتابة الأرقام 1,2,3,4 في مكاتها الصحيح:














2/2701

spsa1



إجابة المفردات التدريبية:

الإجابة	رقم المفردة
	1
	2
	3
	4
	5
	6
	7
	8
	9
	10
	11
<p>• الأوراق • الجذور • الساق • الزهرة</p>	



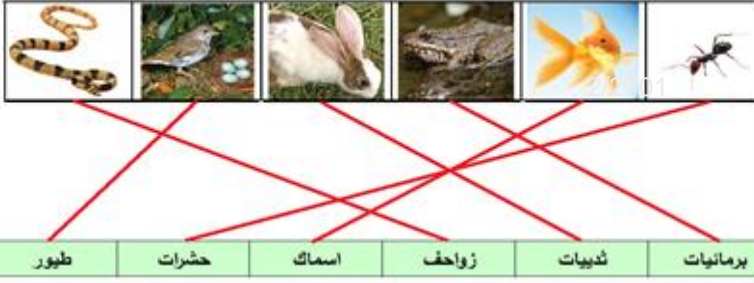
إجابة المفردات التدريبية:

الإجابة

رقم المفردة



12



13



14